



INSTITUCIÓN EDUCATIVA PRIVADA NO SUBSIDIADA

## COMPROMISOS SEMANALES PARA EDUCACIÓN INICIAL

<b>Docentes:</b>	Jackeline Suelta / Tanía Acevedo	<b>Año Escolar:</b>	2025-2026
<b>Nivel y Sección:</b>	III “A”	<b>Momento:</b>	III
<b>Semana:</b>	<b>Del 08/06/2026 al 12/06/2026</b>		

**Instrucciones:** A continuación, se encuentran las actividades de esta semana, las cuales tienen como propósito afianzar los temas trabajados en clases. Estos deberes deben ser realizados en el **Cuaderno Cuadrulado** en compañía y orientación de un adulto significativo.

Se solicita la revisión en casa de este libro, ya que en él se envían las actividades relacionadas con el trabajo diario. En caso de encontrar la notificación: **“Actividad sin realizar por inasistencia”**, la misma debe completarse en casa y presentarse junto con las actividades asignadas.

<b>Lunes 08/06/2026</b>	<b>Área:</b>	<b>Matemáticas.</b>
	<b>Tema:</b>	<b>Recta numérica.</b>
	<b>Compromiso:</b>	<ul style="list-style-type: none"> <li>Escribe fecha, nombre, área y tema. Ejemplo: San Cristóbal 08 de junio del 2026 Nombre del alumno: Área: matemáticas. Tema: recta numérica.</li> <li>Observa el <b>Anexo 1</b> y resuelve las sumas de la recta numérica, al finalizar escribe en letra la cantidad obtenida.</li> </ul>
<b>Martes 09/06/2026</b>	<b>Área:</b>	<b>Matemáticas.</b>
	<b>Tema:</b>	<b>Números del 50 al 60.</b>
	<b>Compromiso:</b>	<ul style="list-style-type: none"> <li>Escribe fecha, nombre, área y tema. Ejemplo: San Cristóbal 09 de junio del 2026 Nombre del alumno.</li> </ul>






INSTITUCIÓN EDUCATIVA PRIVADA NO SUBSIDIADA

		<p>Área: Matemáticas.          Tema: números del 50 al 60.</p> <ul style="list-style-type: none"> <li>• Escribe los números del 50 al 60 en letra y dígitos, ejemplo:  <b>50:</b> cincuenta.  <b>51:</b> cincuenta y uno.</li> </ul>
Miércoles 10/06/2026	Área:	Matemáticas
	Tema:	Orden de números.
	Compromiso:	<ul style="list-style-type: none"> <li>• Escribe fecha, nombre, área y tema. Ejemplo:            San Cristóbal 10 de junio del 2026            Nombre del alumno.            Área: matemáticas.            Tema: orden de números de menor a mayor.</li> <li>• Ordena los números de menor a mayor, ver el <b>Anexo 2</b>.</li> </ul>
Jueves 11/06/2026	Área:	Relación entre los componentes del ambiente.
	Tema:	Origami.
	Compromiso:	<ul style="list-style-type: none"> <li>• Escribe fecha, nombre, área y tema. Ejemplo:            San Cristóbal 11 de junio del 2026            Nombre del alumno.            Área: matemáticas.            Tema: origami.</li> <li>• Presta atención al siguiente video:  <a href="https://www.youtube.com/watch?v=td0dhHx1hbs">https://www.youtube.com/watch?v=td0dhHx1hbs</a>            y junto a tu familia realiza el perro con papel, al finalizar pégalo en tu cuaderno.</li> </ul>





INSTITUCIÓN EDUCATIVA PRIVADA NO SUBSIDIADA

<b>Viernes 12/06/2026</b>	<b>Área:</b>	<b>Relación entre los componentes del ambiente.</b>
	<b>Tema:</b>	<b>Los números del 1 al 100.</b>
	<b>Compromiso:</b>	 <p>Este fin de semana, pide a tu familia que observen juntos los números del 1 al 100  <a href="https://www.youtube.com/watch?v=fVh43cTZzTE">https://www.youtube.com/watch?v=fVh43cTZzTE</a>  <b>Recuerda traer a la Casita del Preescolar el Cuaderno Cuadrículado el lunes 15/06/2026 para su revisión.</b></p>



**AMISTAD – ESTUDIO - ALEGRÍA**  
 Visita la página web del Colegio:  
[www.colegiopirineosdonbosco.com.ve](http://www.colegiopirineosdonbosco.com.ve)

Lcda. Marvelia Mora de Duque  
 Subdirectora de Inicial

Prof. Jackeline Suelta  
 Docente de Aula

Prof. Tanía Acevedo  
 Docente de Aula



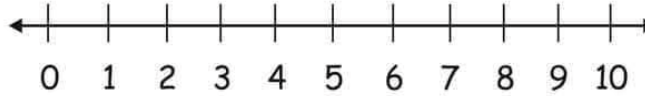


INSTITUCIÓN EDUCATIVA PRIVADA NO SUBSIDIADA

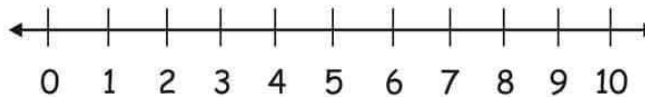
## Anexo 1



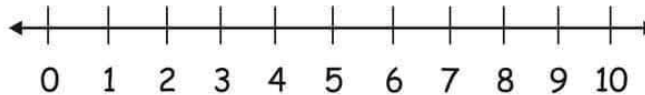
*Suma en la recta numérica*



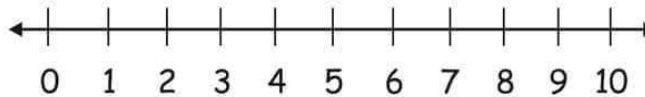
$$3 + 2 = \square$$



$$1 + 5 = \square$$



$$2 + 6 = \square$$



$$4 + 3 = \square$$



Material elaborado por: [www.materialeducativodoc.com](http://www.materialeducativodoc.com)





INSTITUCIÓN EDUCATIVA PRIVADA NO SUBSIDIADA

Anexo 2

<b>20, 24, 60, 89, 22</b> ____/____/____/____/____	<b>29, 67, 76, 59, 41</b> ____/____/____/____/____
<b>32, 44, 60, 85, 10</b> ____/____/____/____/____	<b>13, 35, 57, 78, 29</b> ____/____/____/____/____
<b>72, 41, 56, 80, 90</b> ____/____/____/____/____	<b>19, 13, 55, 27, 52</b> ____/____/____/____/____
<b>10, 13, 14, 21, 9</b> ____/____/____/____/____	<b>102, 95, 103, 86, 17</b> ____/____/____/____/____
<b>11, 10, 70, 40, 31</b> ____/____/____/____/____	<b>43, 26, 16, 68, 94</b> ____/____/____/____/____
<b>12, 42, 90, 88, 67</b> ____/____/____/____/____	<b>71, 21, 51, 91, 41</b> ____/____/____/____/____

